



قياس معيار للصف الثالث الابتدائي
للوحدة الخامسة والسادسة من الفصل الدراسي الأول
2020 - 2019

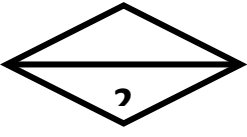
وزارة التربية
الإدارة العامة لمنطقة العاصمة التعليمية
مدرسة الدعية المشتركة للبنات

10

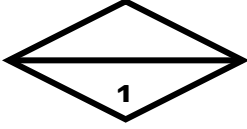
الاسم : الصف : 3 /

السؤال الأول : (أ) اكتب اسم كل مجسم مستعينا بالكلمات الموضحة:

مكعب
كرة
شبه مكعب
أسطوانة
مخروط




(ب) اكتب عدد الأضلاع وعدد الرؤوس للشكل التالي :

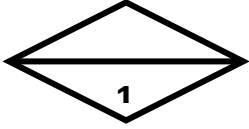


عدد الأضلاع : _____

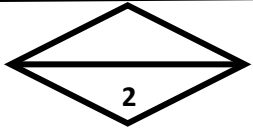
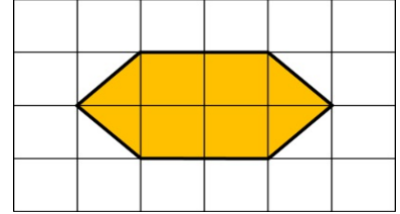
عدد الرؤوس : _____



(ج) اكتب عدد الوحدات المربعة التي غطت مساحة السطح :



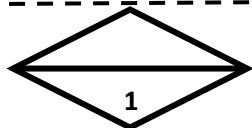
وحدة مربعة _____



السؤال الثاني : (أ) اكمل :

عدد الأقراص الخضراء _____

عدد كل الأقراص _____



(ب) لون ما يمثل ثلثين :



(ج) اكتب عدد الأجزاء ، ثم حوِّط ما إذا كانت الأجزاء متطابقة وغير متطابقة :

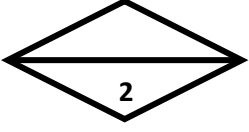
أجزاء _____



غير متطابقة

متطابقة

السؤال الثالث : حوط الإجابة الصحيحة :




(1) جزء واحد من 2 أجزاء متطابقة يمثل :

ربعا

نصفا

ثلثا

(2) أحد أوجه الأسطوانة هو :



نتمى لك النجاح والتوفيق

مديرة المدرسة: أ. اعتدال مال الله

رئيسة القسم : أ. لمى العمر

إعداد : مريم الصايغ